









BÀI TẬP PHÁT TRIỂN TƯ DUY CHO TRẺ









Tên:.....

Ngày:.....

1. Khoanh tròn những số nhỏ nhất

							
5	6	4	3	7	5	9	3

2. Khoanh tròn những con số lớn nhất

							
4	6	5	4	8	4	9	7

3. Điền những số thiếu vào ô trống

0		2		4
5		7		9

4. Khoanh tròn con số lớn nhất trong mỗi phần

3



7



9



6



8



2



5









4



5. Vẽ vòng tròn bao quanh mỗi loài động vật




6. Khoanh tròn con số đúng

 <p>2 1 3</p>	 <p>1 2 3</p>
 <p>3 2 1</p>	 <p>2 1 3</p>
 <p>3 1 2</p>	 <p>1 2 3</p>

7. Làm phép cộng



$$\begin{array}{ccc} 5 & + & 1 & = & 6 \\ \text{.....} & & \text{.....} & & \text{.....} \end{array}$$



$$\text{.....} + \text{.....} = \text{.....}$$



$$\text{.....} + \text{.....} = \text{.....}$$



$$\text{.....} + \text{.....} = \text{.....}$$